



# 十 周界與周長

活動1 認識周界  
活動2 周長的實測與計算

看解答

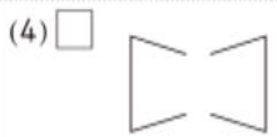
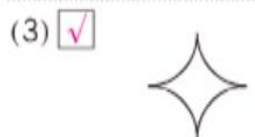
得分

1 用藍筆描出下面圖形的周界。(每題3分，共6分)




2 下面哪些圖形有周界？在□裡打√。

(每題3分，共12分)

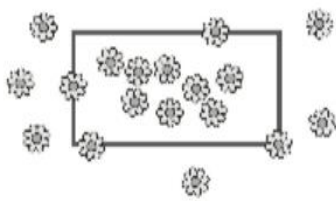


3 數一數，填填看。(每格3分，共18分)

(1) 下面正方形內的  
內部有( 2 )個草莓，  
外部有( 5 )個草莓，  
周界上有( 3 )個草莓。



(2) 下面長方形內的  
內部有( 8 )朵小花，  
外部有( 6 )朵小花，  
周界上有( 4 )朵小花。



4 算算看，下面圖形的周長各是多少？

(每題6分，共36分)

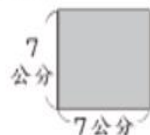
(1) 長方形



$$7 + 3 = 10$$
$$10 \times 2 = 20$$

答：20公分

(2) 正方形



$$7 \times 4 = 28$$

答：28公分

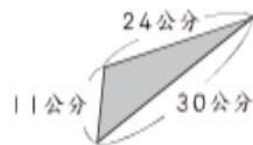
(3) 正三角形



$$9 \times 3 = 27$$

答：27公尺

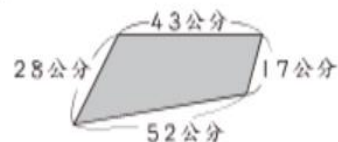
(4)



$$11 + 24 = 35$$
$$35 + 30 = 65$$

答：65公分

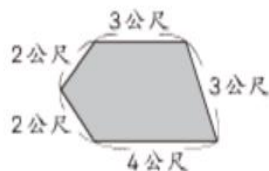
(5)



$$43 + 17 = 60$$
$$60 + 52 = 112$$
$$112 + 28 = 140$$

答：140公分

(6)



$$2 + 2 = 4$$
$$4 + 3 = 7$$
$$7 + 3 = 10$$
$$10 + 4 = 14$$

答：14公尺