



八分分看

活動2 認識平分
活動3 平分活動

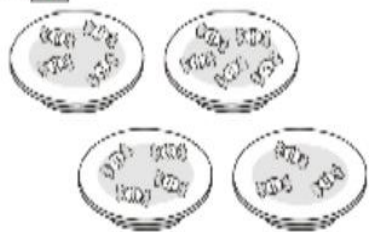
看解答



1 有平分的在□裡畫○，沒有平的打×。

(每題8分，共16分)

(1)

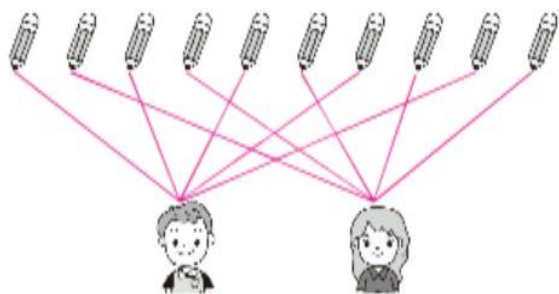


(2)

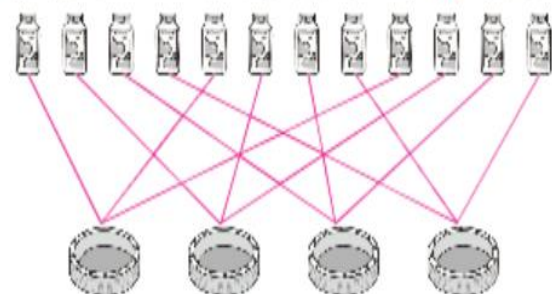


2 連一連，分分看，再回答問題。(每題12分，共24分)

(1) 有10枝鉛筆，平分給2個人，每個人可以得到幾枝鉛筆？(5)枝



(2) 有12瓶果汁，平分到4個野餐籃裡，每個野餐籃裡放幾瓶果汁？(3)瓶



3 用乘法算式找出答案。(每題12分，共24分)

- (1) 21顆橘子，平分給3個人。
 $7 \times 3 = 21$
- (2) 28枝鉛筆，平分給7個人。
 $4 \times 7 = 28$

1個人有(7)顆

1個人有(4)枝

4 二年級仁班有36個小朋友，上體育課時玩大風吹遊戲。聽老師的指令，把你的分法用乘法算式記下來。(每題12分，共36分)

(1)



大風吹，
全班平分分成9組。

$4 \times 9 = 36$

每組有(4)個人

(2)



大風吹，
全班平分分成4組。

$9 \times 4 = 36$

每組有(9)個人

(3)



大風吹，
全班平分分成6組。

$6 \times 6 = 36$

每組有(6)個人