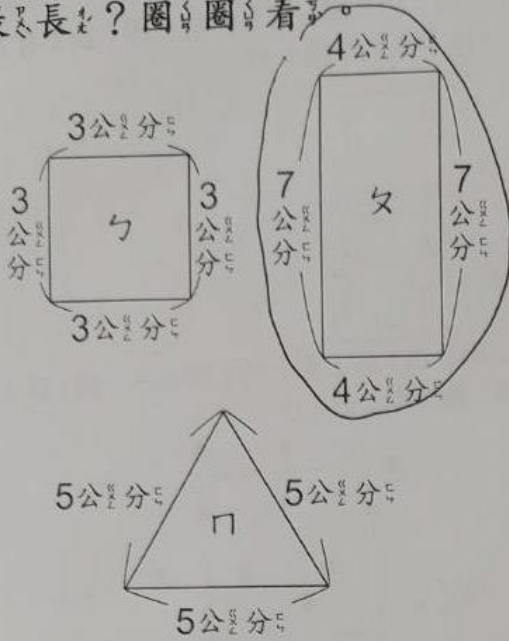



第 10 單元 周界與周長

一. 下面哪個圖形的周長是最長? 圈出圈看。



二. 畫畫看看

1. 用筆描出下面澳洲圖形的周界。



2. 用筆描出下面圖形的周界。

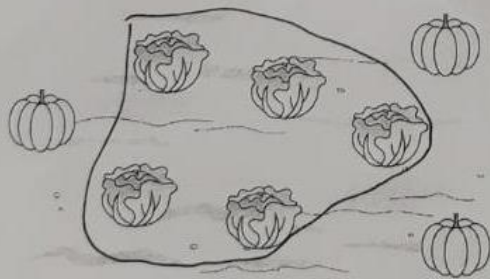
①



②



3. 下面是爺爺的田地，畫一個圈，把所有有的圍在內部，圍在外部。



三. 連連看看

小星有 4 組不同長短的冰棒棍，這 4 組冰棒棍各可以組成一種圖形呢? 將正確的圖形連起來。

ㄅ、3 公分、 3 公分、 3 公分		甲	
ㄆ、4 公分、 4 公分、 5 公分、 5 公分		乙	
ㄇ、3 公分、 3 公分、 3 公分、 3 公分		丙	
ㄊ、3 公分、 4 公分、 5 公分		丁	

四. 塗塗看看

1. 在下面圖形的內部塗上顏色。

