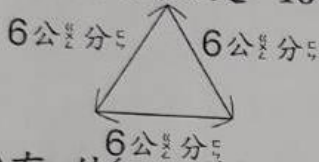


第10單元周界與周長

一對的畫○，錯的畫×

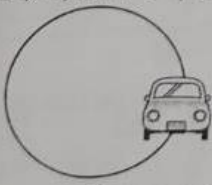
- (X) 有缺口的圖形也有周界，而周界的長就是周長。
- (X) 圖形周界的外面叫作外部。
- (O) 正方形形的4條邊都一樣長。
- (O) 正方形形的4條邊都一樣長，4條邊長合起來就是正方形形的周長。
- (O) 一個三角形的三條邊都是長6公分，三角形的周長是18公分。



- (X) 有缺口的圖形也可以找到內部和外部。



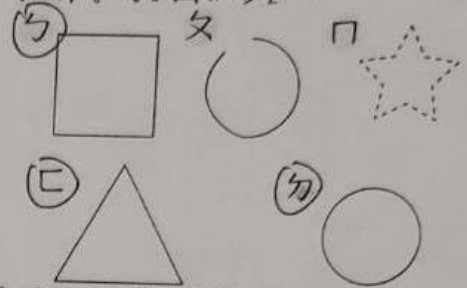
- (O) 圖形的周界裡面叫作內部。
- (O) 有缺口的圖形沒有周界。
- (O) 三角形的3條邊長合起來就是三角形的周長。
- (X) 正方形形的4條邊長都不一樣長。
- (X) 所有的圖形都有周界，在圖形裡面叫作內部，在圖形外面叫作外部。
- (X) 下圖中，汽車在圓圈的內部。




- (X) 小風扇用三排可以排成一個正方形。

二、圈圈看看

- 下面的圖形中，圈出有周界的圖形。



- 下面正方形哪一個區域的圓點最少？




(內部, 周界上, 外部)

- 畫一個圈，把所有的小動物圍起來。




- 下面正方形哪一個區域的蝴蝶最多？



(外部, 周界上, 內部)

三、算出圖形的周長。

長方形



周長是 (18) 公分