

一、用筆描出下面圖形₂的周界₂。(每題4分，共8分)


1.



2.



二、哪些圖形有周界？在□裡打√。(每個答案4分，共8分)




三、看圖回答問題。(每小題5分，共30分)

1.




- (1) 在周界上的沙包有(2)個。
- (2) 在圖外的沙包有(3)個。
- (3) 在圖內的沙包有(4)個。

2.



- (1) 在長方形周界上的★有(3)個。
- (2) 在長方形內部的★有(5)個。
- (3) 在長方形外部的★有(7)個。

四、下面圖形₂的周長₂各是幾公分？(每題8分，共24分)



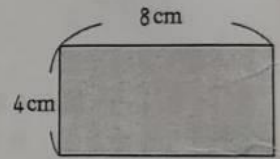
- 1. ㄅ：(16)公分
- 2. ㄆ：(18)公分
- 3. ㄑ：(22)公分

五、把做法和答案記下來。(每題10分，共30分) (本題做法僅供參考)

1. 下面長方形₂的周長₂是幾公分？

$$4 + 8 = 12$$

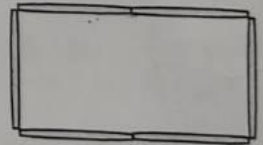
$$12 + 12 = 24$$



答：24 公分

2. 下面圖形₂是用每根10公分長的木棍圍起來的，周長₂是幾公分？

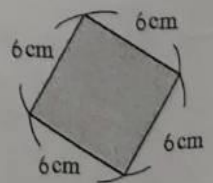
$$10 \times 6 = 60$$



答：60 公分

3. 下面正方形₂的周長₂是幾公分？

$$6 \times 4 = 24$$



答：24 公分