

3 填填看看。

① 把 15 塊餅乾平分給 5 個人，每個人分到 3 塊餅乾。

② 把 63 顆草莓，每 9 顆裝一盒，可以裝成 7 盒。

③ 一張蔥油餅平分切成 6 塊，1 塊是 $\frac{1}{6}$ 張蔥油餅。

④ 一條毛線平分剪成 8 段，1 段是 $\frac{1}{8}$ 條毛線。




4 塗塗看看。


1 張色紙。



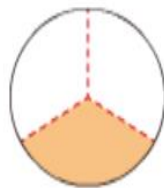
① 把 $\frac{1}{4}$ 張塗上顏色。



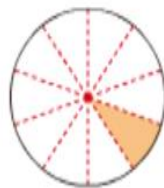
② 把 $\frac{1}{8}$ 張塗上顏色。



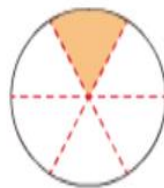
5 塗色部分是全部分的多少？填填看看，再把分數由大到小排列出來。



$\frac{1}{3}$



$\frac{1}{10}$



$\frac{1}{6}$

由大到小： $\frac{1}{3} > \frac{1}{6} > \frac{1}{10}$

6 算算看看，圖形各的周長各是多少公分？

① 長方形



$$7 + 5 = 12$$

$$12 + 12 = 24$$

答：24 公分

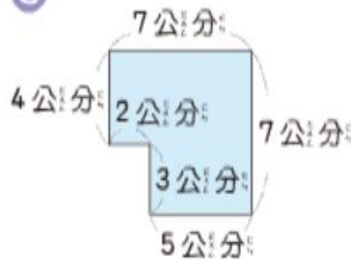
② 正三角形



$$9 \times 3 = 27$$

答：27 公分

③



$$7 + 7 = 14$$

$$4 + 2 = 6$$

$$3 + 5 = 8$$

$$14 + 6 + 8 = 28$$

答：28 公分