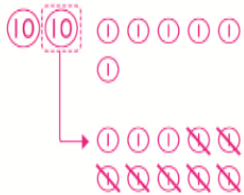


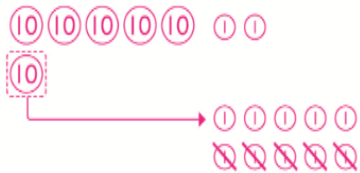
活動4 減法計算(退位)

1 算算看看。

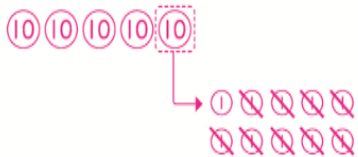
1 $26 - 7 = 19$



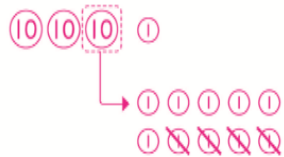
2 $62 - 5 = 57$



3 $50 - 9 = 41$



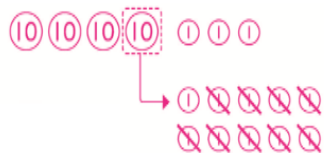
4 $31 - 4 = 27$



2 寫出做法和答案。

1 一包圖畫紙有43張，畫圖用去9張，還剩下幾張？

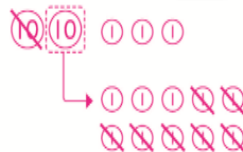
算式 $43 - 9 = 34$



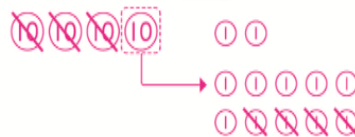
答：剩下 **34** 張。

3 算算看看。

1 $23 - 17 = 6$



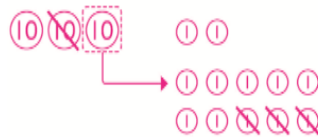
2 $42 - 34 = 8$



4 寫出做法和答案。

1 操場上原來有32個人，走掉13個人後，操場上還剩下幾個人？

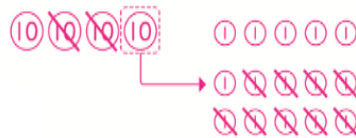
算式 $32 - 13 = 19$



答：剩下 **19** 個人。

2 錢包裡有45個10元和29個5元，比10元少幾個？

算式 $45 - 29 = 16$



答：比 **16** 個10元少。

