

一年 班 號 姓名：

① 按照順序填填看看。

(每格1分, 共15分)

- 83 | 82 | 81 | 80 | 79 | 78 | 77
- 94 | 95 | 96 | 97 | 98 | 99 | 100
- 40 | 50 | 60 | 70 | 80 | 90 | 100
- 92 | 82 | 72 | 62 | 52 | 42 | 32
- 64 | 65 | 66 | 67 | 68 | 69 | 70

② 看看月曆回答問題。

(每格1分, 共9分)

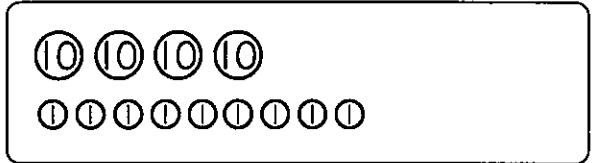
6月						
日	一	二	三	四	五	六
			1	2	3	4
5	6	7	8	9	10	11
12	13	14	15	16	17	18
19	20	21	22	23	24	25
26	27	28	29	30		

- 6月29日是星期(三)。
- 如果今天()是6月4日;
明天是(6)月(5)日星期(日);
昨天是(6)月(3)日星期(五)。
- 小穎每個星期三都要上英文課, 小穎6月一共要有(5)天要上英文課。
- 6月最後一天是星期(四)。

③ 畫畫看看, 再回答問題。

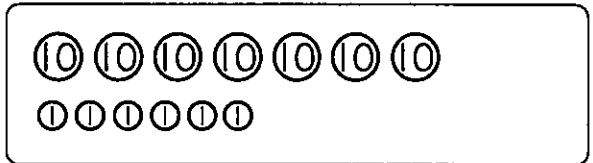
(每題4分, 共12分)(本題畫法僅供參考)

- 買一個49元的漢堡, 怎麼付錢才會剛好?



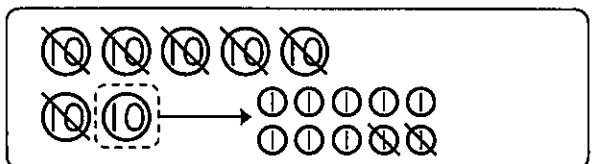
如果都用10元來付, 要(5)個才夠。

- 買一盒76元的餅乾, 怎麼付錢才會剛好?



如果都用10元來付, 要(8)個才夠。

- 買一本62元的畫冊, 付了7個10元, 要找回多少元?



找回(8)元

④ 同一年裡, 按照日子的先後順序, 填上1、2、3、4。

(每格2分, 共8分)

- (1) 3月21日
- (3) 7月7日
- (4) 10月29日
- (2) 5月10日