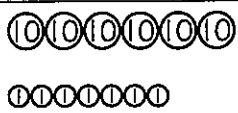
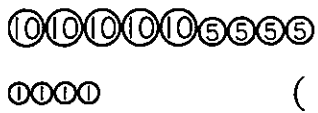


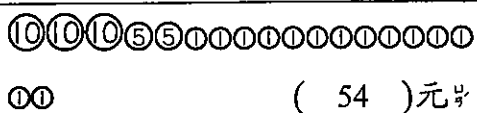
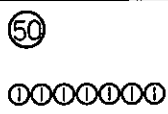
一年 班 號 姓名：

- ① 數一數，有幾元？比較多多的在 裡打 \checkmark 。
(每題 5 分，共 10 分)

1.

 (67) 元	
 (74) 元	\checkmark

2.


 (54) 元	
 (57) 元	\checkmark


- ② 填填看看。(每格 2 分，共 10 分)

- 9 個十和 0 個一合起來是 (90)。
- 5 個一和 6 個十合起來是 (65)。
- 4 個十和 15 個一合起來是 (55)。
- 86 可以分成 (8) 個十和 (6) 個一。

- ③ 把最大的數圈起來。

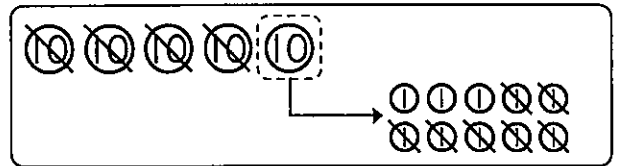
(每題 3 分，共 6 分)

1. 

2. 

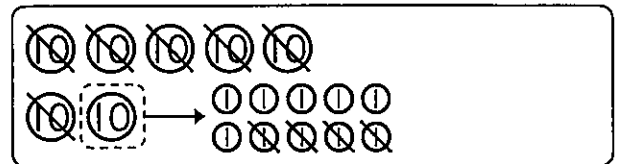
- ④ 要找回多少元？畫畫看看。
(每題 5 分，共 10 分)(本題畫法僅供參考)

1. 買一盒 47 元的麥片，付了 5 個 10，要找回多少元？



找回 (3) 元


2. 買一瓶 64 元的洗潔乳，付了 7 個 10，要找回多少元？




找回 (6) 元

- ⑤ 按照順序填填看看。

(每格 1 分，共 12 分)

1. 

2. 

3. 

4. 