


第 8 單元 二元位數的加減

一、把左邊答數和右邊個數相同的用線連起來；每答 5 分，共 20 分

(1)  $20 - 3 = 17$



(2)  $23 + 4 = 27$



(3)  $8 + 41 = 49$



(4)  $42 - 6 = 36$



二、算算看看，並用直式記下來；每題 5 分，共 30 分

(1)  $25 - 7 = 18$

(2)  $29 + 8 = 37$

(3)  $27 + 6 = 33$

(4)  $43 - 9 = 34$

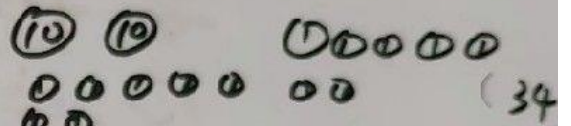
(5)  $36 - 8 = 28$

(6)  $5 + 34 = 39$

三、畫○和○做做看，並用橫式記下來；每題分：共 50 分

(1) 弟弟養了 7 條魚，爸爸又給他 27 條，現在弟弟有幾條魚？

$27 + 7 = 34$




(2) 妹妹收集了 21 張郵票，用掉 6 張後，妹妹還有幾張郵票？

$21 - 6 = 15$



(3) 小安買了一包 35 元的餅乾和一盒 9 元的水果凍，共要付幾元？

$35 + 9 = 44$



(4) 弟弟有 41 張遊戲卡，哥哥有 8 張遊戲卡，誰的遊戲卡比較多？多幾張？

$41 - 8 = 33$

(弟) 的比較多，多 33 張。

(5) 姐姐用色紙摺了 34 顆星星，妹妹摺了 5 顆星星，誰摺的紙星星比較多？多幾顆？

$34 - 5 = 29$

